





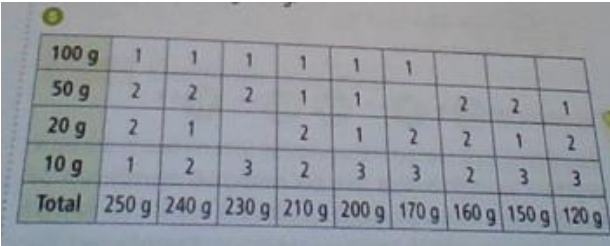
Corrections : Rappel !

Pour corriger ton travail, afin de comprendre les erreurs, tu n'effaces rien, tu barres, tu recopies les mots en entier, tu ajoutes ce qui manque et surtout tu notes ce que tu ne comprends pas pour m'envoyer une demande d'explication.

Lundi 4 mai

Matière	Outils	Corrections
Lecture 25 min	JDE envoyé par courriel ou page ci-dessous. Cahier d'entraînement	Article du JDE « Les secrets du timbre-poste » <i>Pourquoi la jeune femme (la destinataire) rend-elle l'enveloppe et ne paie-t-elle pas ? (Ecris deux raisons) La jeune femme ne peut pas payer, c'est trop cher. Elle a aussi eu sa réponse grâce au code écrit sur l'enveloppe. Elle n'avait donc pas besoin d'ouvrir l'enveloppe.</i> <i>Dans quel pays le premier timbre-poste est-il édité ? C'est en Grande-Bretagne ou Angleterre ou Royaume-Uni.</i> <i>Quel est le prix du premier timbre français et pour quel poids de l'enveloppe ? Le premier timbre français coûte 20 centimes pour une lettre qui pèse 7,5 grammes.</i> <i>Question en violet revue car celle donnée lundi n'était pas correcte.</i>
Orthographe 25 min	Livre Cléo p 139 n°2 Mémo 42 et mémo 25 Cahier de devoirs (jaune) ou une feuille	<ul style="list-style-type: none"> Comme j' ai un peu de temps, j' ai décidé de ranger ma chambre. → Comme nous avons un peu de temps, nous avons décidé de ranger notre chambre. Qui êtes -vous ? Quel âge avez -vous ? → Qui es -tu ? Quel âge as-tu ? J' ai un peu peur, je ne suis pas à l'aise dans cette maison abandonnée. → Nous avons un peu peur, nous ne sommes pas à l'aise dans cette maison abandonnée.
Lexique 20 min	Cahier d'entraînement Livre Cléo les classes grammaticales p 156-157	<ul style="list-style-type: none"> - Le milan est-il un oiseau malin ? adjectif qualificatif - L'aigle est-il un oiseau agile ? adj qual - Une grive a été victime du givre. nom - Mais non ! Le frelon ne ronfle pas, il bourdonne ! verbe - Pauvre raton laveur, dit le vison, ta fourrure a moins de valeur que la mienne. nom - Le dromadaire est tombé raide mort dans une zone qui était trop aride. Adj qual - Pour être juste, un verbe conjugué doit s'accorder avec le sujet. nom - Le pilote devenu alpiniste a appris à manier le piolet. nom - Il n'y a plus d'électricité, Hector se déplace, une torche à la main. nom - Un spectateur a bondi pour récupérer le bidon jeté par un cycliste du peloton. Nom
Mesures d'aires 40 min	Jeu des pentaminos (Envoi par courriel) Fichier Cap Maths p 16 n°4 et 20 n°1 Dico Maths 50-51	Voir corrections ci-dessous   Enigme : I a la même surface que les surfaces B et F. J a la même surface que A et H. P 20 n°1 : C et D ont la même surface que A. B a la plus petite aire et A,C,D ont la plus grande.

Corrections Mardi 5 mai CM1

Matière	Outils	Corrections
Conjugaison 25min	L'impératif Site Internet L'impératif	Sur ton cahier d'entraînement, conjuguer à l'impératif les verbes être, aller, écouter, prendre : Sois va écoute prends Soyons allons écoutons prenons Soyez allez écoutez prenez
Lecture Ecriture 40min	Dossier sur la bande dessinée. Fiche 4 propositions (Envoi par mail lundi soir) ou page de ton choix. Cahier d'entraînement	Tu as pris ta page de bande dessinée que tu as choisie ou que je te propose (propositions envoyées lundi soir par courriel). Tu as bien lu, repéré les lieux, les personnages, leurs sentiments, les actions. A partir de chaque vignette, en te servant des dessins, des onomatopées et des textes, tu as écrit en quelques phrases (au moins 6) l'histoire de cette page sur ton cahier d'entraînement. Tu me l'envoies, jeudi matin au plus tard. Je la corrige et tu effectues tes corrections.
Calculs 25 min	Cahier de devoirs	Pose et calcule : 8 742 + 6 825 + 936 = 16 503 4 625 - 749 = 3 876 8 541 x 63 = 538 083 4 698 : 9 = 522
Les masses Problèmes 20 min	Livre Cap maths p 100 Cahier d'entraînement	N°4 : 100g + 20g + 10g 100g + 10g + 10g + 10g 50g + 50g + 20g + 10g ou 50g + 50g + 10g + 10g + 10g N°5 : 
Géométrie 20 min	Programmes de construction 2 ^{ème} page de fiche photocopiée que tu as.	N°1 : nomme ses sommets A B C D. Marque le milieu des 4 côtés du carré. Relie les 4 milieux..... Colorie les 4 triangles Trace un carré symétrique.....par rapport à l'un de ses côtés. Colorie les 4 nouveaux..... N°2 